

Pozdravljena draga učenka, dragi učenec.

V mesecu maju bo potrebno pri nauku o glasbi pridobiti še kakšno oceno in verjamem, da se boš potrudil in uspešno zaključil šolsko leto. Kako bo to potekalo, še nihče ne ve, vsekakor pa boš pravi čas obveščen. Ker »VAJA DELA MOJSTRA, ČE MOJSTER DELA VAJO« reši:

## PONOVIMO

1. Določi ime durove in vzporedne molove lestvice glede na predznake.




DUR: \_\_\_\_\_


mol: \_\_\_\_\_

2. Napiši **f-mol** (vse tri oblike učbenik str. 51). Označi stopnje (rimske številke, glavne stopnje), razdalje med toni in tetrakorda. Ne pozabi na predznake! Melodični mol pišemo tudi navzdol. ☺

3. Reši intervale.



4. Napiši kvintakorde.




## 5. Napiši sekstakorda in kvartsekstakorda.

$$d_6 = m3 + \check{c}4$$

$$d^6_4 = \check{c}4 + v3$$


$$m_6 = v3 + \check{c}4$$

$$m^6_4 = \check{c}4 + m3$$





## Naloga za 5.D obvezna, ostali pa preberite in poskusite rešti!

### 6. Napiši dominantne septakorde (učbenik str. 55) Potrebno bo močno pomisliti ... ☺



Ampak jaz ne dvomim. Prepričana sem, da vam bo uspelo!



Rešitve pošlji na moj mail: [damijana.blazic@guest.arnes.si](mailto:damijana.blazic@guest.arnes.si)

Želim ti uspešno delo in te lepo pozdravljam.

Damijana Blažič, prof.